



Eine Zahl fehlt


Nimm die Rechenaufgaben unter die Lupe und ergänze die fehlenden Zahlen.

1. $310 + 240 =$ 

6.  $- 347 = 454$

2. $110 +$  $= 540$

7. $911 -$  $= 18$

3. $809 - 279 =$ 

8. $18 +$  $= 217$

4.  $- 145 = 420$

9.  $+ 112 = 591$

5. $267 +$  $= 404$

10. $574 - 285 =$ 